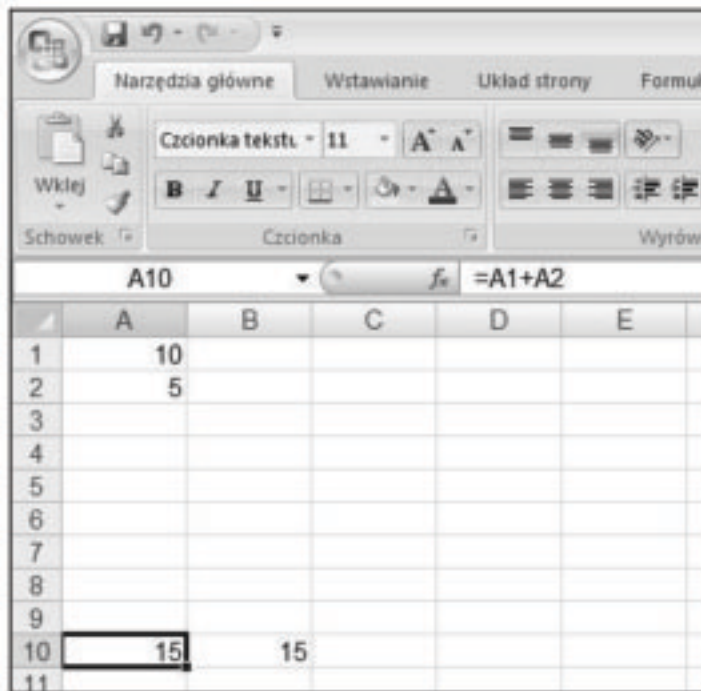


ZADANIA dla GRUPY A

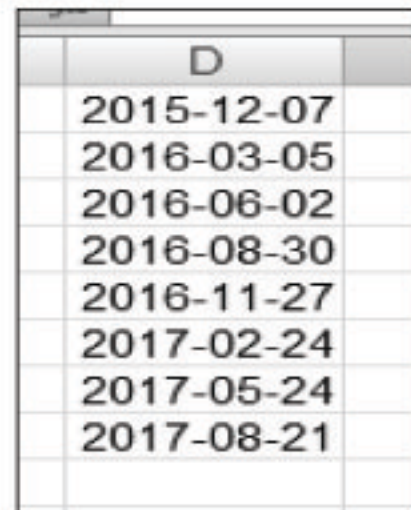
1. Opisz co widzisz w komórce A10



The screenshot shows the Microsoft Excel interface. The ribbon includes 'Narzędzia główne', 'Wstawianie', 'Układ strony', and 'Formuły'. The 'Formuły' ribbon is active, showing the formula bar with the formula $=A1+A2$ and the formula error indicator f_x . The spreadsheet grid shows the following data:

	A	B	C	D	E
1	10				
2	5				
3					
4					
5					
6					
7					
8					
9					
10	15	15			
11					


2. W kolumnie D wprowadzono serie danych data.
Oblicz i podaj odstęp czasowy pomiędzy kolejnymi komórkami:



The screenshot shows a vertical column of dates in cell D:

D
2015-12-07
2016-03-05
2016-06-02
2016-08-30
2016-11-27
2017-02-24
2017-05-24
2017-08-21

3. Określ działanie pokazanego na rysunku kursora myszy:



4. Na czym polega zarządzanie arkuszami?

5. Wymień jakie znasz rodzaje serii danych w arkuszu kalkulacyjnym?